



4. DAN POUKA NA DALJAVO

SREDA, 7. APRIL 2021



DEJAVNOST	NAVODILA ZA DELO
<p>SKRIVALIŠČE</p> 	<p>Izštejte enega člana družine in ga pošljemo pred vrata hiše ali stanovanja. Preden zapusti prostor, mu povemo, da bomo skrili en predmet, ki mu ga tudi pokažete (določite sami), on pa ga mora najti, tako da mu pomagajte z besedama vroče, hladno. Ko predmet najde, mora zapisati na list papirja, kje je bil. Igro večkrat ponovite.</p> <p>Na listu nastanejo zapisi: <u>y</u> omari, <u>pod</u> mizo, <u>na</u> stolu, <u>pod</u> umivalnikom,... Ko z igro končamo, podčrtamo predloge.</p> <p>Tiho 2x prebereš besedilo na strani 88. Besedilo prebereš še polglasno. Nazadnje prebereš besedilo še na glas. Paziš na pravilno izgovorjavo in naglaševanje.</p> <p>Po prebranem besedilu, označi ustrezne odgovore pri nalogi 1.</p> <p>Pisno odgovori na vprašanja o besedilu (DZ, str. 89/2. naloga). Odgovore zapiši v lepopisni zvezek.</p> <p><u>Napiši naslov:</u></p> <p style="text-align: center;">Skrivališče</p> <p>Nalogo 3 in 4. naredi kar v delovni zvezek str. 89.</p>
<p>LIKOVNA UMETNOST</p> <p>Od gradiva do izdelka</p> <p>DU/ 52, 53</p> 	<p>Odpri SPO delovni učbenik in si na strani 52 in 53 oglej kaj lahko narediš iz mehke žice in kaj lahko narediš iz plasteenke.</p> <ol style="list-style-type: none">1. Pred vsakim izdelovanjem si moraš pripraviti najprej delovni prostor.2. Izberi si en izdelek, ki bi ga danes delal. Lahko izdeláš tudi oba, če želiš. <ul style="list-style-type: none">- Izdelek iz mehke žice Pomisli: Kaj bi lahko izdelali? Katera orodja in pripomočke bi za to potrebovali? Kakšen bi bil izdelek? Zamisli si ga in zanj nariši načrt – pri tem upoštevaj, da mora biti iz enega kosa in delov ne moreš spajati.- Izdelek iz plastike- metuljček Ob slikovnem gradivu na str. 53 si oglej postopek izdelave metulja iz plastike. Uporabi svojo domišljijo.



3. Po opravljenem delu sledi pospravljanje orodij, delovne površine,...

Izdelek fotografiraj in pošlji do četrтка zvečer na moj naslov.



MATEMATIKA



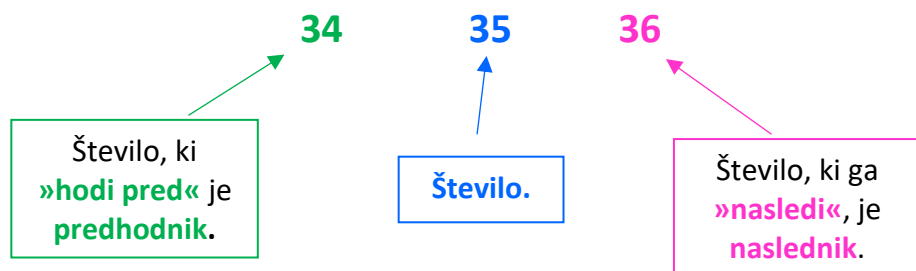
1. Za ogrevanje ponovi štetje:

- naprej od 13 do 36 in od 58 do 81,
- nazaj od 65 do 46 in od 39 do 18.

2. Predhodnik, število, naslednik

O teh številih si se že učil, sedaj ponovimo. Prepiši v zvezek. Napiši naslov:

Predhodnik, število, naslednik



Sedaj še sam poišči predhodnike in naslednike števil: 66, 84, 41, 12, 99. Zapiši v zvezek kot tabelo.

Predhodnik	Število	Naslednik
	66	
	84	
	41	
	12	
	99	

3. Vzemi DZ in reši naloge na strani 46.

4. Nadaljuj reševanje na strani 47 in 48. Razmisli katero število je večje in katero manjše. Bodi pozoren pri vstavljanju pravega znaka.



ŽELIM VAM VELIKO USPEHA IN VZTRAJNOSTI PRI DELU.

ZA POMOČ PRI DELU SE LAHKO VEDNO OBRNETE NAME NA MOJ ELEKTRONSKI NASLOV:

nevenka.debelak@os-dobrna.si